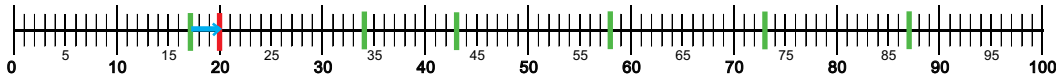


## 6. Zaokrouhlování čísel na desítky



1. Na číselné ose vyznač podle vzoru, kam číslo zaokrouhlíš.



2. Zaokrouhli čísla na desítky.

4 ÷ <input type="text"/>	84 ÷ <input type="text"/>	85 ÷ <input type="text"/>	21 ÷ <input type="text"/>	32 ÷ <input type="text"/>	58 ÷ <input type="text"/>
18 ÷ <input type="text"/>	72 ÷ <input type="text"/>	69 ÷ <input type="text"/>	37 ÷ <input type="text"/>	53 ÷ <input type="text"/>	86 ÷ <input type="text"/>
31 ÷ <input type="text"/>	65 ÷ <input type="text"/>	17 ÷ <input type="text"/>	99 ÷ <input type="text"/>	71 ÷ <input type="text"/>	59 ÷ <input type="text"/>
96 ÷ <input type="text"/>	54 ÷ <input type="text"/>	66 ÷ <input type="text"/>	64 ÷ <input type="text"/>	46 ÷ <input type="text"/>	14 ÷ <input type="text"/>

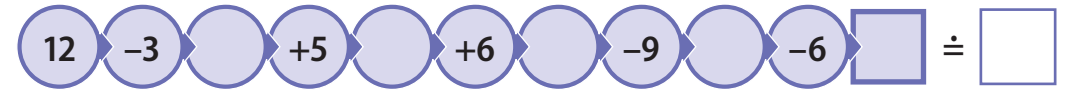
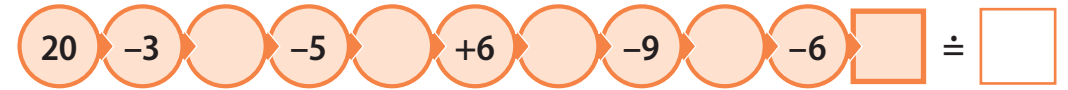


3. Vypočítej. Vypočítaný výsledek pak zaokrouhli na desítky.

8 + 7 = ____ ÷ <input type="text"/>	9 + 5 = ____ ÷ <input type="text"/>	3 + 15 = ____ ÷ <input type="text"/>
14 - 7 = ____ ÷ <input type="text"/>	7 + 9 = ____ ÷ <input type="text"/>	6 + 8 = ____ ÷ <input type="text"/>
16 - 8 = ____ ÷ <input type="text"/>	12 - 8 = ____ ÷ <input type="text"/>	18 - 9 = ____ ÷ <input type="text"/>
11 - 5 = ____ ÷ <input type="text"/>	12 - 7 = ____ ÷ <input type="text"/>	13 - 6 = ____ ÷ <input type="text"/>



4. Vypočítej hady a výsledek zaokrouhli.



5. Sesbírej kuličky do kyblíků. Číslo na kuličce zaokrouhli a vybarvi ji podle barvy kyblíku.



6. Číslo na květu zaokrouhli a květy ve vázách vybarvi podle zadaných pokynů (20 = žlutá, 40 = oranžová, 50 = červená).