


D. Hráč za Paríž Saint-Germain a som kapitánom svojho národného tímu.

MENO:


KLUB:



E. Hráč za Bayern Mníchov a v roku 2014 som vyhral Majstrovstvá sveta FIFA.

MENO:

KLUB:



F. S počtom 13 gólov som sa stal najlepším strelcom kvalifikácie na EURO 2016. Môj klub je Bayern Mníchov.


MENO:

KLUB:



BODKA K BODKE

Spoj jednotlivé body a objaví sa superrýchla francúzska hviezda stredného pásma, Paul Pogba. Potom dokresli dav a v ňom seba, svojich kamarátov a rodinu.



VÍTAZI EURA

Nájdí v osemsmerovke všetkých víťazov, ktorí kedy vyhrali Majstrovstvá Európy vo futbale UEFA. Ku každému tímu prilep toľko nálepiek s hviezdíčkou, koľko majstrovstiev vyhral.

A	Z	Ä	V	Z	Y	K	S	T	E	I	V	O	S
Č	E	S	K	O	S	L	O	V	E	N	S	K	O
Š	Ý	O	E	B	L	Ý	M	O	G	L	U	R	G
Š	P	A	N	I	E	L	S	K	O	F	P	T	F
H	F	V	O	A	M	S	J	K	E	M	E	A	D
R	C	R	K	V	N	A	S	O	Ď	K	R	L	O
Č	C	Í	S	U	H	N	E	K	O	E	V	I	K
P	R	W	D	L	Á	S	L	C	I	J	I	A	C
E	R	K	N	D	G	N	Q	É	Y	L	K	N	E
D	J	L	A	P	K	Y	N	R	H	J	T	S	M
S	E	N	L	U	Q	A	G	G	K	Á	O	K	E
N	L	N	O	F	R	U	I	R	O	M	R	O	N
A	H	V	H	F	R	A	N	C	Ú	Z	S	K	O
S	T	A	D	E	D	E	F	R	A	N	C	E	Z



NASTAVENÝ ČAS

Dokážeš v osemsmerovke nájsť tiež maskota EURA 2016 a miesto konania finálového zápasu?

SUPER VIKTOR




STADE DE FRANCE



- ✓ ŠPANIELSKO ★★
- ✓ NEMECKO ★★
- ✓ FRANCÚZSKO ★★
- ✓ TALIANSKO ★
- ✓ GRÉCKO ★
- ✓ DÁNSKO ★
- ✓ SOVIETSKY ZVÄZ ★

- ✓ ČESKOSLOVENSKO ★
- ✓ HOLANDSKO (hovor. výr. pre Nizozemsko) ★

Z	E	C	N	F	R	V	E	D	E	S	T	A	V	L	S
O	S	Z	F	R	A	H	F	H	V	H	L	N	A	V	A
N	Q	É	Y	L	K	N	E	R	O	M	R	O	N	A	V
K	E	O	G	L	U	R	G	S	E	N	S	K	O	F	P
J	T	S	M	D	J	L	A	P	K	Y	N	R	H	J	T
N	E	R	K	N	D	G	N	Q	É	Y	L	K	N	E	R
V	I	K	Č	C	Í	S	U	H	N	E	K	O	E	V	I
K	O	E	V	I	K	Č	C	Í	S	U	H	N	E	K	O
R	O	M	R	O	N	A	V	A	L	S	K	O	F	P	T
H	F	V	O	A	M	S	J	K	E	M	E	A	D	H	F
S	T	A	D	E	D	E	F	R	A	N	C	E	Z	S	T
G	L	U	R	G	S	E	N	S	K	O	F	P	T	F	G
Č	E	S	K	O	S	L	O	V	E	N	S	K	O	Č	E
S	T	A	D	E	D	E	F	R	A	N	C	E	Z	S	T






ZÁZRAKY ZÁLOŽNÍKOV



Španielsky útočiaci záložník David Silva strelil vo finále EURA 2012 gól. Podarí sa mu to vo Francúzsku znova? Nájdi dva chýbajúce dieliky puzzle a doplň obrázok.



ODPOVED: Chýbajúce dieliky sú A a C.

ZÁPASY V SKUPINÁCH

Keď budú odohrané všetky zápasy v skupinách, vyplň tieto tabuľky. Postupujú prvé dva tímy z každej skupiny a tri najlepšie tímy z tretích miest.

SKUPINA A

Tím	V	R	P	GR	BODY
1	○	○	○	○	○
2	○	○	○	○	○
3	○	○	○	○	○
4	○	○	○	○	○

SKUPINA B

Tím	V	R	P	GR	BODY
1	○	○	○	○	○
2	○	○	○	○	○
3	○	○	○	○	○
4	○	○	○	○	○

SKUPINA C

Tím	V	R	P	GR	BODY
1	○	○	○	○	○
2	○	○	○	○	○
3	○	○	○	○	○
4	○	○	○	○	○

SKUPINA D

Tím	V	R	P	GR	BODY
1	○	○	○	○	○
2	○	○	○	○	○
3	○	○	○	○	○
4	○	○	○	○	○

SKUPINA E

Tím	V	R	P	GR	BODY
1	○	○	○	○	○
2	○	○	○	○	○
3	○	○	○	○	○
4	○	○	○	○	○

SKUPINA F

Tím	V	R	P	GR	BODY
1	○	○	○	○	○
2	○	○	○	○	○
3	○	○	○	○	○
4	○	○	○	○	○

V = výhry, R = remízy, P = prehry, GR = gólový rozdiel